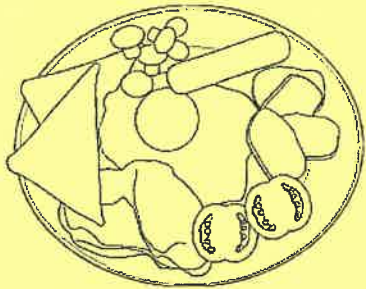




假日好去處(A)



姓名：關熙頤(7) 班別：2A 成績：A

- ◆ 請為自己安排農曆新年假期內一天的行程，並完成下表。
- ◆ 日期：2022年 2 月 6 日(星期 日)
- ◆ 活動建議：拜年、做運動、做功課、逛街、遊覽、參觀……

活動 (繪圖或貼上照片)	開始時間	結束時間	所需時間
例子： <u>和家人一同吃早餐</u> 	上午 <u>7時30分</u>	上午 <u>8時10分</u>	0小時 <u>40分鐘</u>
活動(一) <u>和家人一同吃早餐</u> 	上午 <u>10時0分</u>	上午 <u>10時35分</u>	0小時 <u>35分鐘</u>



活動 (繪圖或貼上照片)	開始時間	結束時間	所需時間
活動 (二) <u>到馬家拜年</u> 	下午 <u>5時05分</u>	下午 <u>11時00⁰分</u>	<u>5</u> 小時 <u>55</u> 分鐘
活動 (三) <u>和小狗拖肥玩</u> 	下午 <u>6時00⁰分</u>	下午 <u>7時30分</u>	<u>1</u> 小時 <u>30</u> 分鐘
<h2>今天結束了！</h2>			

以上各項活動中，哪一項活動佔最多時間？共用去多少小時和分鐘？

在以上各項活動中，活動 (二) 花了最長的時間，

共用去 5 小時 55 分鐘。

要珍惜時間啊！




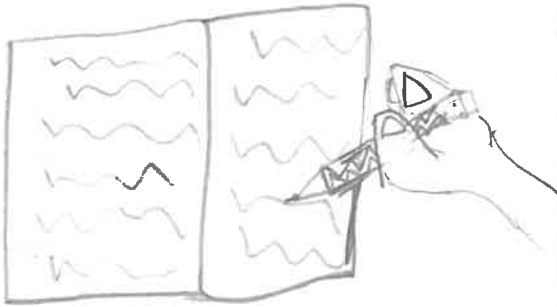



假日好去處(B)



At 4

姓名：余進諾 (24) 班別：2A 成績：At

- ◆ 請為自己安排農曆新年假期內 一天 的行程，並完成下表。
- ◆ 日期：2022 年 2 月 4 日 (星期 五)
- ◆ 活動建議：拜年、做運動、做功課、逛街、遊覽、參觀……

活動 (繪圖或貼上照片)	開始時間	結束時間	所需時間
例子： <u>和家人一同吃早餐</u> 	上午 <u>7時30分</u>	上午 <u>8時10分</u>	0 小時 <u>40 分鐘</u>
活動 (一) <u>在家裏做功課</u> 	上午 <u>11時15分</u>	下午 <u>12時30分</u>	1 小時 <u>15 分鐘</u>



活動 (繪圖或貼上照片)	開始時間	結束時間	所需時間
活動 (二) <u>和爸爸一起砌模型</u> 	<u>下午</u> <u>3時24分</u>	<u>下午</u> <u>7時40分</u>	<u>4</u> 小時 <u>16</u> 分鐘
活動 (三) <u>看電視: (2022年冬季奧運會)</u> 	<u>下午</u> <u>7時59分</u>	<u>下午</u> <u>10時15分</u>	<u>2</u> 小時 <u>16</u> 分鐘
<h2>今天結束了!</h2>			

以上各項活動中，哪一項活動佔最多時間？共用去多少小時和分鐘？

為甚麼你會這樣安排？

在以上各項活動中，活動 (2) 花了最長的時間，

共用去 4 小時 16 分鐘。我安排這活動佔最長時間因為
我很喜歡玩模型

要珍惜時間啊!



假日好去處(B)



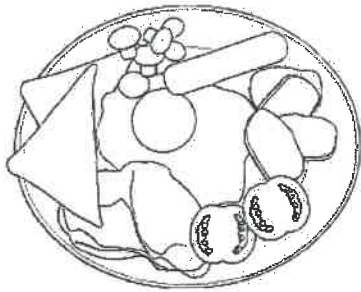

姓名：李子忻 (14) 班別：2A 成績：A+

◆ 請為自己安排農曆新年假期內一天的行程，並完成下表。

◆ 日期：2022年 2 月 1 日 (星期二)

2/4

◆ 活動建議：拜年、做運動、做功課、逛街、遊覽、參觀……

活動 (繪圖或貼上照片)	開始時間	結束時間	所需時間
例子： <u>和家人一同吃早餐</u> 	上午 <u>7時30分</u>	上午 <u>8時10分</u>	0小時 <u>40分鐘</u>
活動 (一) <u>到婆婆家拜年</u> 	下午 <u>2時30分</u>	下午 <u>3時45分</u>	1小時 <u>15分鐘</u>



活動 (繪圖或貼上照片)	開始時間	結束時間	所需時間
活動 (二) <u>和親戚一起玩數字牌遊戲</u> 	下午 <u>4時20分</u>	下午 <u>6時40分</u>	<u>2</u> 小時 <u>20</u> 分鐘
活動 (三) <u>和親戚一起吃盤菜</u> 	下午 <u>7時00分</u>	下午 <u>8時10分</u>	<u>1</u> 小時 <u>10</u> 分鐘
<h2>今天結束了!</h2>			

以上各項活動中，哪一項活動佔最多時間？共用去多少小時和分鐘？

為甚麼你會這樣安排？

在以上各項活動中，活動 (二) 花了最長的時間，

共用去 2 小時 20 分鐘。我安排這活動佔最長時間因為 數字牌遊戲是一款考驗腦筋的遊戲，這遊戲又刺激又好玩。

要珍惜時間啊!



假日好去處(B)

非常好
非常好
非常好

A+ 2/4

姓名：林爾駿 (12) 班別：2A 成績：

◆ 請為自己安排農曆新年假期內 一天 的行程，並完成下表。

◆ 日期：2022 年 2 月 4 日 (星期 五)

◆ 活動建議：拜年、做運動、做功課、逛街、遊覽、參觀……

活動 (繪圖或貼上照片)	開始時間	結束時間	所需時間
例子： <u>和家人一同吃早餐</u> 	上午 <u>7時30分</u>	上午 <u>8時10分</u>	0 小時 40 分鐘
活動 (一) <u>和親友吃午餐</u> 	下午 <u>12時15分</u>	下午 <u>2時15分</u>	2 小時 0 分鐘



活動 (繪圖或貼上照片)	開始時間	結束時間	所需時間
活動 (二) 到科學園參觀  	下午 3時 03 分	下午 4時 37 分	1小時 34分鐘
活動 (三) 到旺角逛街  	下午 5時 09 分	下午 6時 55 分	1小時 46分鐘
<h1>今天結束了!</h1>			

以上各項活動中，哪一項活動佔最多時間？共用去多少小時和分鐘？

為甚麼你會這樣安排？



在以上各項活動中，活動 (一) 花了最長的時間，

共用去 2 小時 0 分鐘。我安排這活動佔最長時間因為

等待食物製作需時和與親友談天

要珍惜時間啊!







假日好去處(A)

姓名：李梓銘(17) 班別：2B 成績：A

- ◆ 請為自己安排農曆新年假期內一天的行程，並完成下表。
- ◆ 日期：2022年1月28日(星期五)
- ◆ 活動建議：拜年、做運動、做功課、逛街、遊覽、參觀……

活動 (繪圖或貼上照片)	開始時間	結束時間	所需時間
例子： <u>和家人一同吃早餐</u> 	上午 <u>7時30分</u>	上午 <u>8時10分</u>	<u>0</u> 小時 <u>40</u> 分鐘
活動(一) <u>和家人玩滾軸溜冰</u> 	下午 <u>1時0分</u>	下午 <u>3時0分</u>	<u>2</u> 小時 <u>0</u> 分鐘

←你一定會滾得很快啦!



活動 (繪圖或貼上照片)	開始時間	結束時間	所需時間
活動 (二) <u>和爸爸踏單車</u> 	下午 <u>3時35分</u>	下午 <u>4時0分</u>	<u>0</u> 小時 <u>25</u> 分鐘
活動 (三) <u>和家人燒烤</u> 	下午 <u>7時0分</u>	下午 <u>9時17分</u>	<u>2</u> 小時 <u>17</u> 分鐘
<h2>今天結束了!</h2>			

以上各項活動中，哪一項活動佔最多時間？共用去多少小時和分鐘？

在以上各項活動中，活動 (3) 花了最長的時間，

共用去 2 小時 17 分鐘。

要珍惜時間啊!





假日好去處(A)

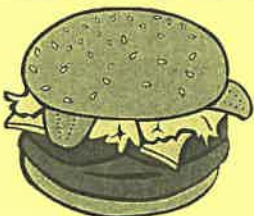
姓名：梅梓相(23) 班別：2B 成績：A

◆ 請為自己安排農曆新年假期內一天的行程，並完成下表。

◆ 日期：2022年2月7日(星期一)

◆ 活動建議：拜年、做運動、做功課、逛街、遊覽、參觀……

活動 (繪圖或貼上照片)	開始時間	結束時間	所需時間
例子： <u>和家人一同吃早餐</u> 	上午 <u>7時30分</u>	上午 <u>8時10分</u>	0小時 <u>40分鐘</u>
活動(一) <u>做功課</u> 	真用力! 上午 <u>11時10分</u>	上午 <u>11時45分</u>	0小時 <u>35分鐘</u>



活動 (繪圖或貼上照片)	開始時間	結束時間	所需時間
活動 (二) <u>做運動</u> 	下午 <u>2時30分</u>	下午 <u>3時30分</u>	<u>1</u> 小時 <u>0</u> 分鐘
活動 (三) <u>玩玩具</u> 	下午 <u>4時00分</u>	下午 <u>5時30分</u>	<u>1</u> 小時 <u>30</u> 分鐘
<p>今天結束了！</p>			

天氣真好！

以上各項活動中，哪一項活動佔最多時間？共用去多少小時和分鐘？

在以上各項活動中，活動 (三) 花了最長的時間，

共用去 1 小時 30 分鐘。

要珍惜時間啊！



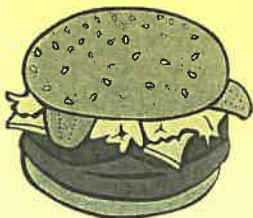



假日好去處(A)

姓名：吳怡晴 (24) 班別：2B 成績：A

- ◆ 請為自己安排農曆新年假期內 **一天的行程**，並完成下表。
- ◆ 日期：2022年1月29日(星期六)
- ◆ 活動建議：拜年、做運動、做功課、逛街、遊覽、參觀……

活動 (繪圖或貼上照片)	開始時間	結束時間	所需時間
例子： <u>和家人一同吃早餐</u> 	上午 <u>7時30分</u>	上午 <u>8時10分</u>	0小時 <u>40分鐘</u>
活動(一) <u>吃早餐</u> 	上午 <u>10時30分</u>	上午 <u>10時45分</u>	0小時 <u>15分鐘</u>



活動 (繪圖或貼上照片)	開始時間	結束時間	所需時間
活動 (二) <u>和弟弟一起踏單車</u> 	上午 12時 07分	上午 1時 35分	1 小時 28 分鐘
活動 (三) <u>和爸爸、媽媽做年糕</u> 	下午 3時 25分 Wow~ 真厲害!	下午 5時 12分	1 小時 47 分鐘


今天結束了!

以上各項活動中，哪一項活動佔最多時間？共用去多少小時和分鐘？

在以上各項活動中，活動 (三) 花了最長的時間，

共用去 1 小時 47 分鐘。

要珍惜時間啊!



假日好去處(B)

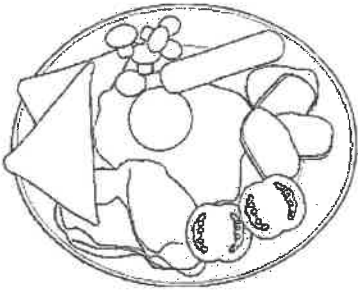
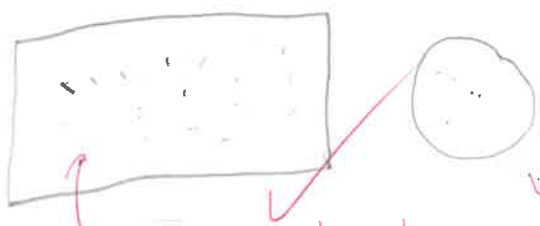



姓名：林瑞淇 (15) 班別：2B 成績：A-



◆ 請為自己安排農曆新年假期內 一天 的行程，並完成下表。

◆ 日期：2022 年 2 月 2 日 (星期 三)

◆ 活動建議：拜年、做運動、做功課、逛街、遊覽、參觀……

活動 (繪圖或貼上照片)	開始時間	結束時間	所需時間
例子： <u>和家人一同吃早餐</u> 	上午 7時30分	上午 8時10分	0小時 40分鐘
活動 (一) <u>和家人一同吃年糕</u>  很多芝麻的年糕 =>	上午 10時0分	上午 10時30分	0小時 30分鐘



活動 (繪圖或貼上照片)	開始時間	結束時間	所需時間
活動 (二) <u>做功課</u> 	下午 <u>1時0分</u>	下午 <u>2時30分</u>	<u>1</u> 小時 <u>30</u> 分鐘
活動 (三) <u>和家人吃盆菜</u>  <p>這是蝦嗎? 很生動!</p>	下午 <u>6時0分</u>	下午 <u>8時0分</u>	<u>2</u> 小時 <u>0</u> 分鐘
<h2>今天結束了!</h2>			

以上各項活動中，哪一項活動佔最多時間？共用去多少小時和分鐘？

為甚麼你會這樣安排？

在以上各項活動中，活動(三)花了最長的時間，

共用去2小時0分鐘。我安排這活動佔最長時間因為

和家人吃盆菜我們都很開心!

盆菜好吃嗎?

要珍惜時間啊!



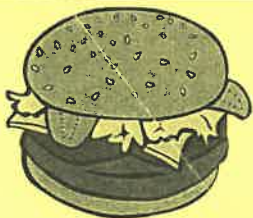
假日好去處(A)



姓名：陳家家 (2) 班別：2C 成績：A+ 2/4

- ◆ 請為自己安排農曆新年假期內一天的行程，並完成下表。
- ◆ 日期：2022年2月5日(星期六)
- ◆ 活動建議：拜年、做運動、做功課、逛街、遊覽、參觀……

活動 (繪圖或貼上照片)	開始時間	結束時間	所需時間
例子： <u>和家人一同吃早餐</u> 	上午 <u>7時30分</u>	上午 <u>8時10分</u>	<u>0</u> 小時 <u>40</u> 分鐘
活動(一) <u>到姑姐家拜年</u> 	上午 <u>10時01分</u>	下午 <u>12時30分</u>	<u>2</u> 小時 <u>29</u> 分鐘




活動 (繪圖或貼上照片)	開始時間	結束時間	所需時間
活動 (二) <u>我們在公園玩耍</u> 	下午 <u>2時35分</u>	下午 <u>2時59分</u>	<u>0</u> 小時 <u>24</u> 分鐘
活動 (三) <u>回家和表姐玩玩具</u> 	下午 <u>3時30分</u>	下午 <u>4時30分</u>	<u>1</u> 小時 <u>0</u> 分鐘
<h2>今天結束了!</h2>			

以上各項活動中，哪一項活動佔最多時間？共用去多少小時和分鐘？

在以上各項活動中，活動(一)花了最長的時間，

共用去2小時29分鐘。

要珍惜時間啊!



假日好去處(B)






姓名：李俊廷 (1) 班別：2A 成績：A+ $\frac{2}{4}$


◆ 請為自己安排農曆新年假期內 一天的行程，並完成下表。

◆ 日期：2022 年 2 月 2 日 (星期 三)

◆ 活動建議：拜年、做運動、做功課、逛街、遊覽、參觀……

活動 (繪圖或貼上照片)	開始時間	結束時間	所需時間
例子： <u>和家人一同吃早餐</u> 	上午 <u>7時30分</u>	上午 <u>8時10分</u>	0小時 <u>40分鐘</u>
活動(一) <u>到沙田拍照</u> 	下午 <u>12時30分</u>	下午 <u>2時30分</u>	2小時 <u>0分鐘</u>



活動 (繪圖或貼上照片)	開始時間	結束時間	所需時間
活動 (二) <u>到來當勞吃薯條</u> 	下午 <u>2時30分</u>	下午 <u>3時10分</u>	<u>0</u> 小時 <u>30</u> 分鐘
活動 (三) <u>玩電子遊戲</u> 	下午 <u>3時0分</u>	下午 <u>6時0分</u>	<u>3</u> 小時 <u>0</u> 分鐘
<h2>今天結束了!</h2>			

以上各項活動中，哪一項活動佔最多時間？共用去多少小時和分鐘？

為甚麼你會這樣安排？

在以上各項活動中，活動 (三) 花了最長的時間，

共用去 3 小時 0 分鐘。我安排這活動佔最長時間因為
我喜歡玩電子遊戲。

要珍惜時間啊!



假日好去處(A)




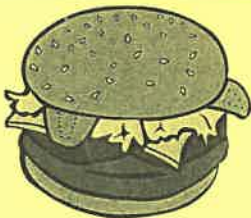
27/4




姓名：陳心庭 (4) 班別：2L 成績：A+

- ◆ 請為自己安排農曆新年假期內一天的行程，並完成下表。
- ◆ 日期：2022年2月1日(星期二)
- ◆ 活動建議：拜年、做運動、做功課、逛街、遊覽、參觀……

活動 (繪圖或貼上照片)	開始時間	結束時間	所需時間
例子： <u>和家人一同吃早餐</u> 	上午 <u>7時30分</u>	上午 <u>8時10分</u>	0小時 <u>40分鐘</u>
活動(一) <u>吃早餐</u> 	上午 <u>9時30分</u>	上午 <u>10時</u> 分	0小時 <u>30</u> 分鐘




活動 (繪圖或貼上照片)	開始時間	結束時間	所需時間
活動 (二) <u>參觀</u> 	下午 <u>2時30分</u>	下午 <u>6時00分</u>	<u>3</u> 小時 <u>30</u> 分鐘 <u>25</u>
活動 (三) <u>拉筋活動</u> 	下午 <u>10時00分</u>	下午 <u>10時30分</u>	<u>0</u> 小時 <u>30</u> 分鐘
<h2>今天結束了！</h2>			

以上各項活動中，哪一項活動佔最多時間？共用去多少小時和分鐘？

在以上各項活動中，活動 (二) 花了最長的時間，

共用去 3 小時 30 分鐘。

要珍惜時間啊！





假日好去處(A)



姓名：梁柏堯 (18) 班別：2C 成績：A+ 27/4

- ◆ 請為自己安排農曆新年假期內一天的行程，並完成下表。
- ◆ 日期：2022年2月2日(星期三)
- ◆ 活動建議：拜年、做運動、做功課、逛街、遊覽、參觀……

活動 (繪圖或貼上照片)	開始時間	結束時間	所需時間
例子： <u>和家人一同吃早餐</u> 	上午 <u>7時30分</u>	上午 <u>8時10分</u>	<u>0</u> 小時 <u>40</u> 分鐘
活動(一) <u>大掃除</u> 	上午 <u>11時0分</u>	下午 <u>1時0分</u>	<u>2</u> 小時 <u>0</u> 分鐘



活動 (繪圖或貼上照片)	開始時間	結束時間	所需時間
活動 (二) <u>拜 年</u> 	下午 <u>3</u> 時 <u>0</u> 分	下午 <u>9</u> 時 <u>0</u> 分	<u>6</u> 小時 <u>0</u> 分鐘
活動 (三) <u>做手工</u> 	下午 <u>9</u> 時 <u>30</u> 分	下午 <u>10</u> 時 <u>0</u> 分	<u>0</u> 小時 <u>30</u> 分鐘


今天結束了！

以上各項活動中，哪一項活動佔最多時間？共用去多少小時和分鐘？

在以上各項活動中，活動(二)花了最長的時間，

共用去6小時0分鐘。

要珍惜時間啊！





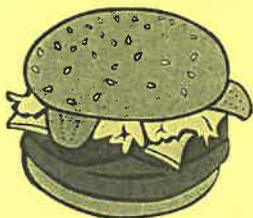


假日好去處(A)

姓名：李梓晴 (8) 班別：20 成績：A

- ◆ 請為自己安排農曆新年假期內 **一天的行程**，並完成下表。
- ◆ 日期：2022年2月5日(星期六)
- ◆ 活動建議：拜年、做運動、做功課、逛街、遊覽、參觀……

活動 (繪圖或貼上照片)	開始時間	結束時間	所需時間
例子： <u>和家人一同吃早餐</u> 	上午 <u>7時30分</u>	上午 <u>8時10分</u>	0小時 <u>40分鐘</u>
活動 (一) <u>和月朋友吃早餐</u> 	上午 <u>9時30分</u>	上午 <u>10時3分</u>	1小時 <u>0分鐘</u>




活動 (繪圖或貼上照片)	開始時間	結束時間	所需時間
活動 (二) <u>大美督放風箏</u> 	下午 <u>12時15分</u>	下午 <u>1時45分</u>	1小時 <u>30</u> 分鐘
活動 (三) <u>足采月谷印畫舟</u> 	下午 <u>3時0分</u>	下午 <u>4時0分</u>	1小時 <u>0</u> 分鐘
今天結束了！			

以上各項活動中，哪一項活動佔最多時間？共用去多少小時和分鐘？

在以上各項活動中，活動(二)花了最長的時間，

共用去1小時30分鐘。

要珍惜時間啊！





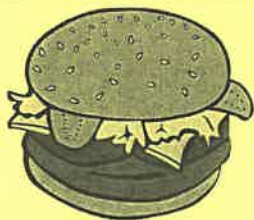




假日好去處 (A)

姓名：何嘉桓 (子) 班別：20 成績：A

- ◆ 請為自己安排農曆新年假期內 一天 的行程，並完成下表。
- ◆ 日期：二〇二 年 二 月 二 日 (星期 三)
- ◆ 活動建議：拜年、做運動、做功課、逛街、遊覽、參觀……

活動 (繪圖或貼上照片)	開始時間	結束時間	所需時間
例子： <u>和家人一同吃早餐</u> 	上午 <u>7時30分</u>	上午 <u>8時10分</u>	<u>0</u> 小時 <u>40</u> 分鐘
活動 (一) <u>和家人吃早餐</u> 	上午 <u>10時30分</u>	上午 <u>11時0分</u>	<u>0</u> 小時 <u>30</u> 分鐘



活動 (繪圖或貼上照片)	開始時間	結束時間	所需時間
活動 (二) <u>到舅父家手蒸年粽</u> <u>燒火考。</u> 	<u>正午</u> <u>12時0分</u>	<u>下午</u> <u>6時10分</u>	<u>6</u> 小時 <u>10</u> 分鐘
活動 (三) <u>向外婆家拜年</u> <u>年粽吃年飯</u> 	<u>下午</u> <u>7時30分</u>	<u>下午</u> <u>10時5分</u>	<u>2</u> 小時 <u>35</u> 分鐘

今天結束了！

以上各項活動中，哪一項活動佔最多時間？共用去多少小時和分鐘？

在以上各項活動中，活動 (二) 花了最長的時間，

共用去 6 小時 10 分鐘。

要珍惜時間啊！



假日好去處(B)

A
2/4


姓名：鄧海言 (20) 班別：2D 成績：2/4


◆ 請為自己安排農曆新年假期內一天的行程，並完成下表。



◆ 日期：2022年1月29日(星期六)

◆ 活動建議：拜年、做運動、做功課、逛街、.....



活動 (繪圖或貼上照片)	開始時間	間	所需時間
例子： <u>和家人一同吃早餐</u> 	上午 <u>7時30分</u>	上午 <u>8時10分</u>	0小時 <u>40分鐘</u>
活動(一) <u>我們一家人一起吃早餐。</u> 	上午 <u>9時0分</u>	上午 <u>9時45分</u>	0小時 <u>45分鐘</u>



活動 (繪圖或貼上照片)	開始時間	結束時間	所需時間
活動 (二) <u>我和媽媽去買年花。</u> 	上午 11時05分	下午 12時30分	1 小時 25 分鐘
活動 (三) <u>我和姐姐玩跳舞遊戲。</u> 	下午 3時30分	下午 4時0分	0 小時 30 分鐘

今天結束了!

以上各項活動中，哪一項活動佔最多時間？共用去多少小時和分鐘？
 為甚麼你會這樣安排？

在以上各項活動中，活動 (二) 花了最長的時間，

共用去 1 小時 25 分鐘。我安排這活動佔最長時間因為
太多年花，要慢慢地選擇

is good
要珍惜時間啊!



假日好去處 (B)

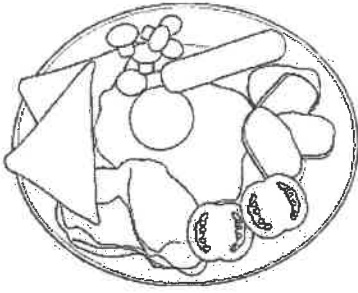



姓名：邱靖棠 (26) 班別：2D 成績：A



◆ 請為自己安排農曆新年假期內一天的行程，並完成下表。

◆ 日期：2022年1月31日(星期一)

◆ 活動建議：拜年、做運動、做功課、逛街、遊覽、參觀……

活動 (繪圖或貼上照片)	開始時間	結束時間	所需時間
例子： <u>和家人一同吃早餐</u> 	上午 <u>7時30分</u>	上午 <u>8時10分</u>	0小時 <u>40分鐘</u>
活動(一) <u>和家人吃年夜飯</u> 	下午 <u>6時30分</u>	下午 <u>7時45分</u>	1小時 <u>15分鐘</u>



活動 (繪圖或貼上照片)	開始時間	結束時間	所需時間
活動 (二) <u>和家人馬奇單車</u> 	下午 <u>3時30分</u>	下午 <u>5時10分</u>	1 小時 <u>40分鐘</u>
活動 (三) <u>貼春聯</u> 	上午 <u>10時50分</u>	上午 <u>11時40分</u>	0 小時 <u>50分鐘</u>

今天結束了！

以上各項活動中，哪一項活動佔最多時間？共用去多少小時和分鐘？

為甚麼你會這樣安排？

在以上各項活動中，活動 (二) 花了最長的時間，

共用去 1 小時 40 分鐘。我安排這活動佔最長時間因為 運重力很重要，可以強身健體

要珍惜時間啊！

