

循理會白普理基金循理小學
數學圖書推介

13/5(-) 交

姓名：劉珮雅

班別：2A

班號：(15)

◇ 請同學到圖書館借閱數學圖書，然後完成這張工作紙，為鼓勵同學參與，完成每份《數學圖書推介》可獲禮物一份。

◇ 詳情參閱：Google classroom → 23-24 **班別** 數學 → 數學閱讀週

☐ 閱讀日期：2024 年 3 月

☐ 書名：小學生第2級概念數學



☐ 作者/編者：吳澤俊



這本書令我印象最深刻 / 我學習到的數學知識 (可用圖畫或文字表達)

兩個人的

年紀已永遠
都相差15歲。



23-8-17	34-19=15
24-9-18	35-20=15
25-10-19	36-21=15
26-11-20	37-22=15
27-12-21	38-23=15
28-1-22	39-24=15
29-2-23	40-25=15
30-3-24	
31-4-25	
32-5-26	
33-6-27	

循理會白普理基金循理小學
數學圖書推介

1/3 (交)☆☆

姓名：鄭伊淋

班別：2A

班號：(6)

◇ 請同學到圖書館借閱數學圖書，然後完成這張工作紙，為鼓勵同學參與，完成每份《數學圖書推介》可獲禮物一份。

◇ 詳情參閱：Google classroom → 23-24 **班別**數學 → 數學閱讀週

📖 閱讀日期：二年二十月

📖 書名：立體房子



📖 作者/編者：林少杰



這本書令我印象最深刻/我學習到的數學知識 (可用圖畫或文字表達)

我應識到米和相差數



成績：40米



〇〇〇〇我跑得最快 😊

成績：5米

成績：2米



$40 - 5 = 35$
我比小猴
差了35米



〇〇〇〇〇〇 $40 - 2 = 38$
我比小猴差了38米



循理會白普理基金循理小學
數學圖書推介

13/5(-)
前交

姓名：莫伊汶

班別：2A

班號：(6)

☆ 請同學到圖書館借閱數學圖書，然後完成這張工作紙，為鼓勵同學參與，完成每份《數學圖書推介》可獲禮物一份。

☆ 詳情參閱：Google classroom → 23-24 **班別**數學 → 數學閱讀週

📖 閱讀日期：3年28月

📖 書名：漫遊直式城

📖 作者/編者：林少杰



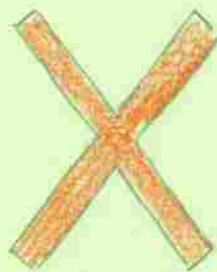
這本書令我印象最深刻/我學習到的數學知識 (可用圖畫或文字表達)

認識乘數多一些



$$24 \times 10 = 240$$

$$\begin{array}{r} 230 \\ \times 40 \\ \hline 9200 \end{array}$$



$$9 \times 4 = 36$$

$$7 \times 8 = 56$$



循理會白普理基金循理小學
數學圖書推介

姓名：蕭卓謙

班別：2A

1/31/24
班號：(23)

- ◇ 請同學到圖書館借閱數學圖書，然後完成這張工作紙，為鼓勵同學參與，完成每份《數學圖書推介》可獲禮物一份。
- ◇ 詳情參閱：Google classroom → 23-24 **班別**數學 → 數學閱讀週

☐ 閱讀日期：2024年二月

☐ 書名：加減法有趣的加法和減法



☐ 作者/編者：蘇西·芬芬爾、蘇西·狄金絲



這本書令我印象最深刻/我學習到的數學知識 (可用圖畫或文字表達)

這本書讓我認識力減法可
用不同方法計算的。例如：直式力減法



數字配對等。原來力減法好簡單。



循理會白普理基金循理小學
數學圖書推介

13/5/2024 前交

姓名：蕭卓謙

班別：2A

班號：03

◇ 請同學到圖書館借閱數學圖書，然後完成這張工作紙，為鼓勵同學參與，完成每份《數學圖書推介》可獲禮物一份。

◇ 詳情參閱：Google classroom → 23-24 **班別** 數學 → 數學閱讀週

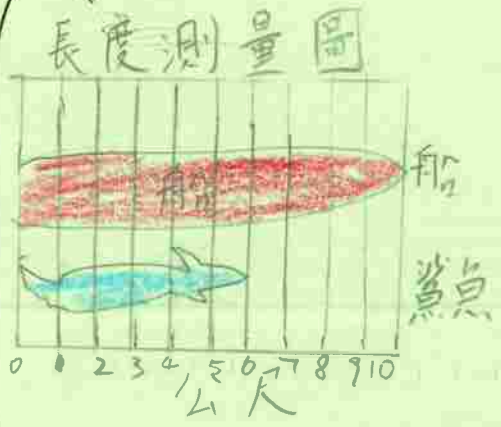
☐ 閱讀日期：2024年4月

☐ 書名：發現大海怪

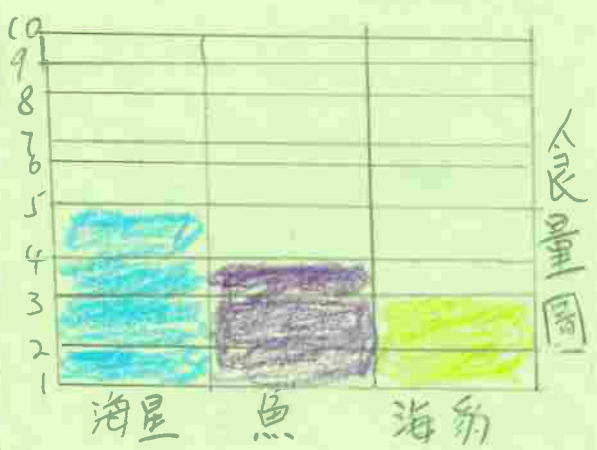
☐ 作者/編者：克萊姆森



這本書令我印象最深刻/我學習到的數學知識 (可用圖畫或文字表達)



這本書讓我學到可以用測量的長度相差多少。沙魚跟船。



我們還可以用圖形看見海洋生物。

循理會白普理基金循理小學
數學圖書推介

姓名：蕭卓謙 班別：2A 班號：(23)

◇ 請同學到圖書館借閱數學圖書，然後完成這張工作紙，為鼓勵同學參與，完成每份《數學圖書推介》可獲禮物一份。

◇ 詳情參閱：Google classroom→23-24 **班別**數學→數學閱讀週

📖 閱讀日期：2024年4月

📖 書名：四邊形玩幾何

📖 作者/編者：大衛·阿德里



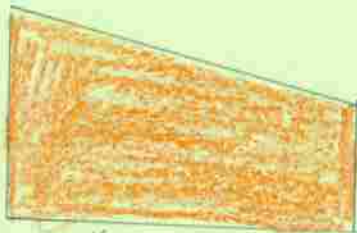
這本書令我印象最深刻/我學習到的數學知識 (可用圖畫或文字表達)




正方形



長方形



直角梯形



平行四邊形

這本書讓我對四邊形有更深
的認識。除了
正方形、長方形、
外還有平行四
邊形、直角梯
形。



循理會白普理基金循理小學
數學圖書推介

15/5(-) 前交

姓名：許智女媛

班別：2A

班號：(12)

◇ 請同學到圖書館借閱數學圖書，然後完成這張工作紙，為鼓勵同學參與，完成每份《數學圖書推介》可獲禮物一份。

◇ 詳情參閱：Google classroom → 23-24 **班別**數學 → 數學閱讀週

📖 閱讀日期：2024年 4 月

📖 書名：立體房子

📖 作者/編者：林少杰



這本書令我印象最深刻/我學習到的數學知識 (可用圖畫或文字表達)



$20 = 10 = 10$ (個)
我放掉10個氣球
就能降落了!

循理會白普理基金循理小學
數學圖書推介

1/3 (交) ☆

姓名：許智媛

班別：2A

班號：(12)

◇ 請同學到圖書館借閱數學圖書，然後完成這張工作紙，為鼓勵同學參與，完成每份《數學圖書推介》可獲禮物一份。

◇ 詳情參閱：Google classroom → 23-24 **班別**數學 → 數學閱讀週

☐ 閱讀日期：2024年2月

☐ 書名：數學馬戲團



☐ 作者/編者：林木少杰

這本書令我印象最深刻/我學習到的數學知識 (可用圖畫或文字表達)



這個冠軍
交你才別跟我爭。

小兔吹了6個氣球。
小龜只吹了2個，但
他堅持一直吹下去。

$6 > 2$

循理會白普理基金循理小學
數學圖書推介

1/3(交) 


姓名：何映柔

班別：2A

班號：(11)

◇ 請同學到圖書館借閱數學圖書，然後完成這張工作紙，為鼓勵同學參與，完成每份《數學圖書推介》可獲禮物一份。

◇ 詳情參閱：Google classroom → 23-24 班別 數學 → 數學閱讀週

 閱讀日期：2024 年 2 月

 書名：動手學時間



 作者/編者：Sean McArdle



這本書令我印象最深刻/我學習到的數學知識 (可用圖畫或文字表達)



循理會白普理基金循理小學
數學圖書推介

13/5 (-) 前交

姓名：何映柔

班別：2A

班號：(11)

◇ 請同學到圖書館借閱數學圖書，然後完成這張工作紙，為鼓勵同學參與，完成每份《數學圖書推介》可獲禮物一份。

◇ 詳情參閱：Google classroom → 23-24 **班別** 數學 → 數學閱讀週

📖 閱讀日期：2024年4月

📖 書名：數學我不怕!



📖 作者/編者：樂多多



這本書令我印象最深刻/我學習到的數學知識 (可用圖畫或文字表達)

$11 + 12 = 23$
奇數 + 偶數 = 奇數
偶數 + 偶數 = 偶數

$12 + 8 = 20$

$2 \times 9 = 18$

偶數 \times 奇數 = 偶數
偶數 \times 偶數 = 偶數

$4 \times 4 = 16$



$$\begin{array}{r} 11 \\ + 12 \\ \hline 23 \end{array}$$

$$\begin{array}{r} 12 \\ + 8 \\ \hline 20 \end{array}$$

循理會白普理基金循理小學
數學圖書推介

13/5 (-) 前交

姓名：李子天馬俊

班別：2A

班號：(16)

◇ 請同學到圖書館借閱數學圖書，然後完成這張工作紙，為鼓勵同學參與，完成每份《數學圖書推介》可獲禮物一份。

◇ 詳情參閱：Google classroom → 23-24 **班別** 數學 → 數學閱讀週

閱讀日期：2024 年 4 月

書名：一看就懂的單位圖鑑

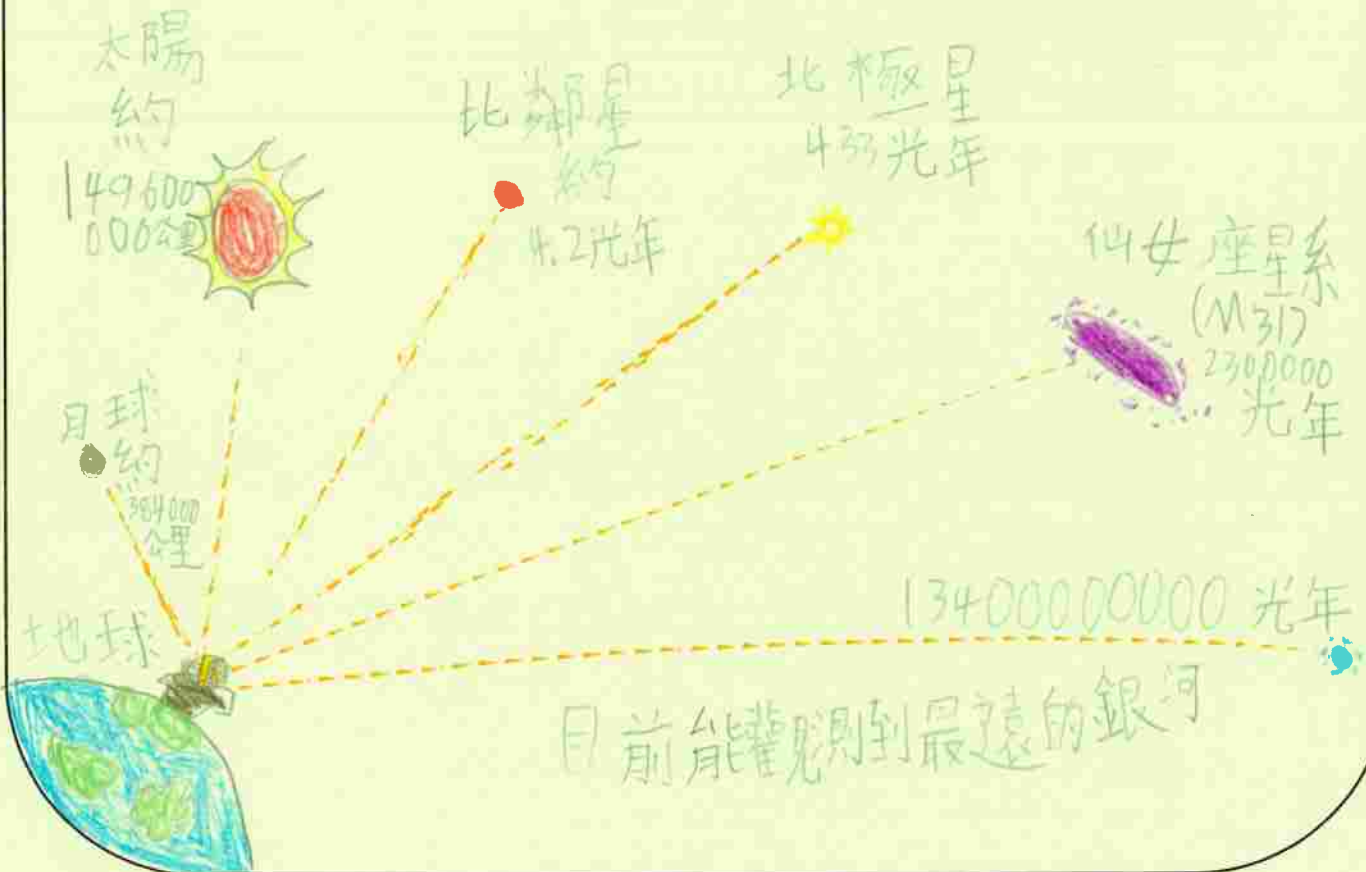


作者/編者：宗玉印



這本書令我印象最深刻/我學習到的數學知識 (可用圖畫或文字表達)

1光年約是9兆4600億公里



循理會白普理基金循理小學
數學圖書推介

姓名：曾卓滔 班別：2B 班號：(21)

◇ 請同學到圖書館借閱數學圖書，然後完成這張工作紙，為鼓勵同學參與，完成每份《數學圖書推介》可獲禮物一份。

◇ 詳情參閱：Google classroom→23-24 **班別**數學→數學閱讀週


📖 閱讀日期：2023年11月

📖 書名：數學的組合(數字旅行) 

📖 作者/編者：黃培岩 楊清彬



這本書令我印象最深刻/我學習到的數學知識 (可用圖畫或文字表達)



數字可以變成圖案

循理會白普理基金循理小學 數學圖書推介

姓名：林信樂

班別：2B

班號：(12)

◇ 請同學到圖書館借閱數學圖書，然後完成這張工作紙，為鼓勵同學參與，完成每份《數學圖書推介》可獲禮物一份。

◇ 詳情參閱：Google classroom → 23-24 班別數學 → 數學閱讀週

📖 閱讀日期：2024年4月

📖 書名：大偵探福爾摩斯 提升數學能力讀本 加減乘除之卷

📖 作者/編者：厲河




這本書令我印象最深刻/我學習到的數學知識 (可用圖畫或文字表達)

IQ 題



移動
2根火柴



$$\begin{array}{r}
 1a2cb \\
 + 12ac4 \\
 \hline
 27890
 \end{array}$$



循理會白普理基金循理小學
數學圖書推介

姓名：楊卓堯 班別：2B 班號：(24)

◇ 請同學到圖書館借閱數學圖書，然後完成這張工作紙，為鼓勵同學參與，完成每份《數學圖書推介》可獲禮物一份。

◇ 詳情參閱：Google classroom → 23-24 **班別**數學 → 數學閱讀週

📖 閱讀日期：2024年4月



📖 書名：有趣的乘法表

📖 作者/編者：羅西·狄金絲

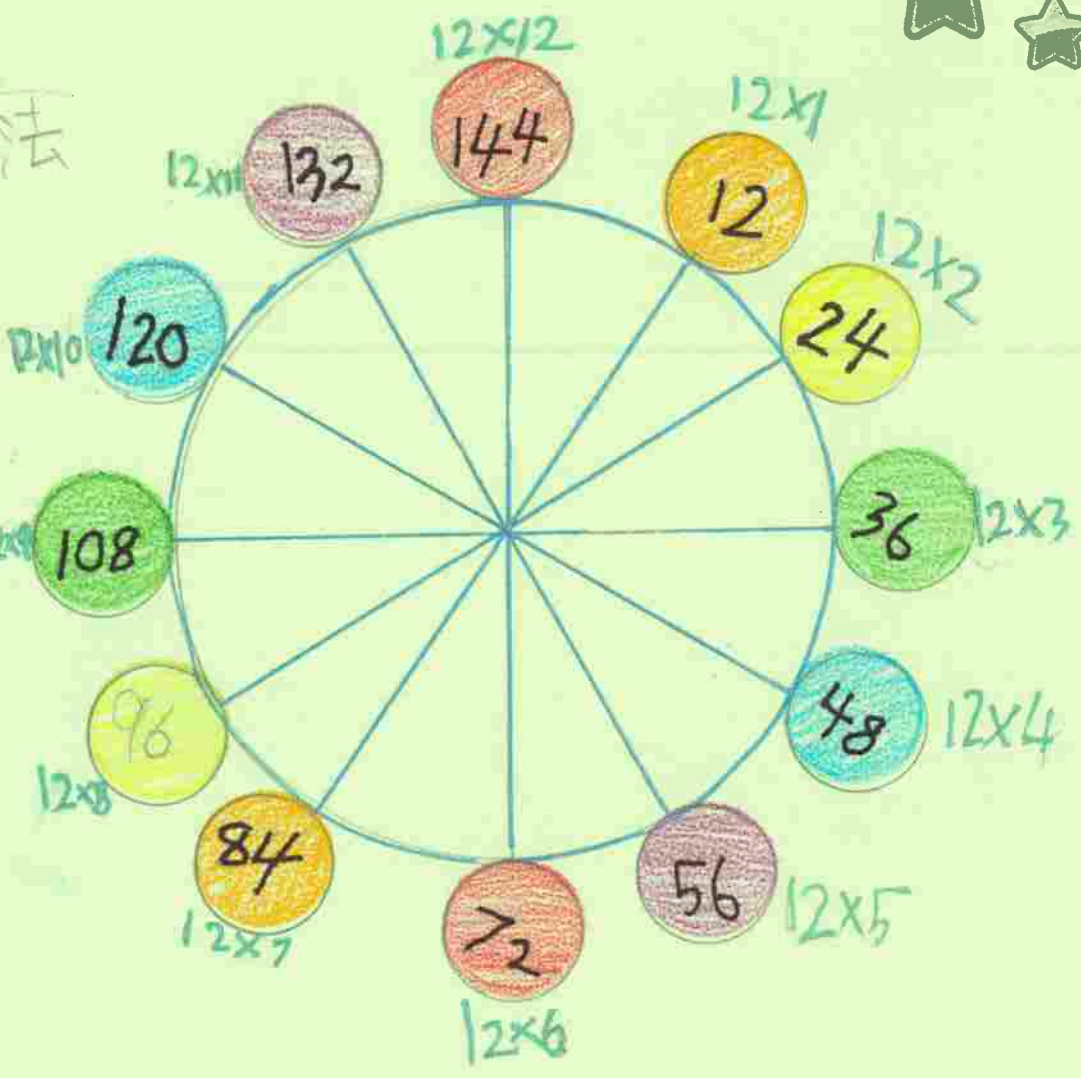


這本書令我印象最深刻/我學習到的數學知識 (可用圖畫或文字表達)

12 乘法

摩天

輪



循理會白普理基金循理小學
數學圖書推介

姓名：吳陳欣

班別：2C

班號：(14)

◇ 請同學到圖書館借閱數學圖書，然後完成這張工作紙，為鼓勵同學參與，完成每份《數學圖書推介》可獲禮物一份。

◇ 詳情參閱：Google classroom → 23-24 **班別**數學 → 數學閱讀週

📖 閱讀日期：2024 年 2 月

📖 書名：數學①益智王




📖 作者/編者：林英濟

這本書令我印象最深刻/我學習到的數學知識 (可用圖畫或文字表達)

good!

十分精美!

如果知針
指在3和4之
間是幾點?



長針從3點
轉半圈，所以
是3點30分



循理會白普理基金循理小學
數學圖書推介

姓名：黃芷明

班別：2C

班號：(19)

- ◇ 請同學到圖書館借閱數學圖書，然後完成這張工作紙，為鼓勵同學參與，完成每份《數學圖書推介》可獲禮物一份。
- ◇ 詳情參閱：Google classroom→23-24 **班別**數學→數學閱讀週

📖 閱讀日期：2024年2月

📖 書名：大偵探福爾摩斯

📖 作者/編者：謝詠恩



這本書令我印象最深刻/我學習到的數學知識 (可用圖畫或文字表達)



循理會白普理基金循理小學
數學圖書推介

姓名：鄧詠晴

班別：2C

班號：(9)

◇ 請同學到圖書館借閱數學圖書，然後完成這張工作紙，為鼓勵同學參與，完成每份《數學圖書推介》可獲禮物一份。

◇ 詳情參閱：Google classroom→23-24 **班別**數學→數學閱讀週

📖 閱讀日期：24年1月

📖 書名：螞蟻王國數學大戰



📖 **作者/編者**：曾桂香和紙上魔方

這本書令我印象最深刻/我學習到的數學知識 (可用圖畫或文字表達)



循理會白普理基金循理小學
數學圖書推介

姓名：林志淳

班別：2P

班號：(10)

◇ 請同學到圖書館借閱數學圖書，然後完成這張工作紙，為鼓勵同學參與，完成每份《數學圖書推介》可獲禮物一份。

◇ 詳情參閱：Google classroom → 23-24 班別 數學 → 數學閱讀週

📖 閱讀日期：2023 年 11 月

📖 書名：楓之谷數神偷 4

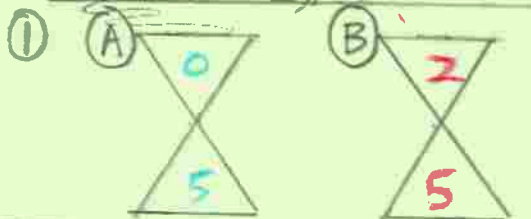


📖 作者/編者：宋道樹

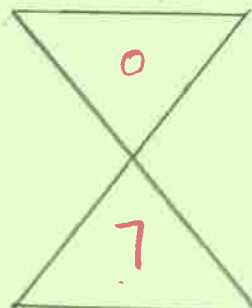
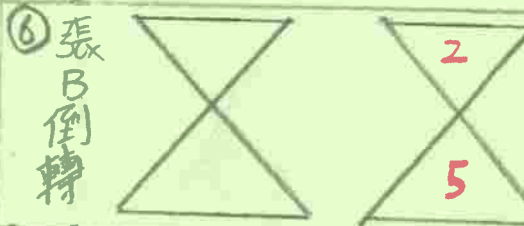
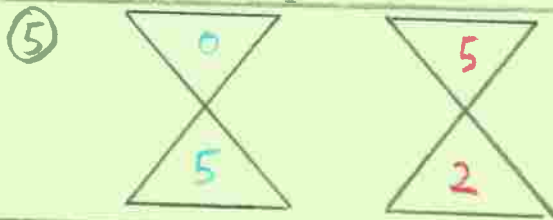
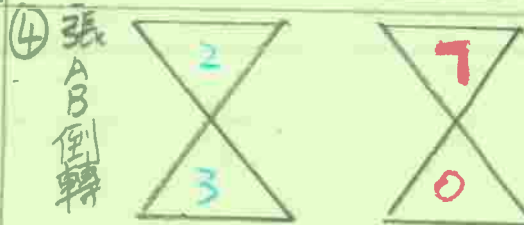
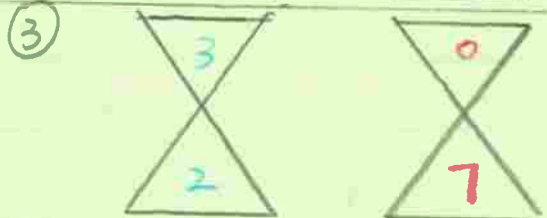
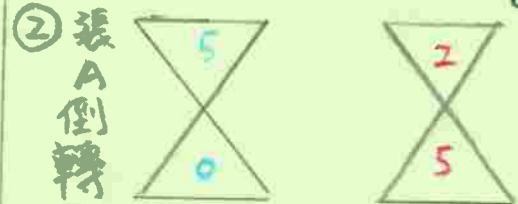


這本書令我印象最深刻/我學習到的數學知識 (可用圖畫或文字表達)

(11分鐘) 是由一個7分鐘和5分鐘的沙漏計算出來的



過了5分鐘
過了7分鐘
過了9分鐘



過了11分鐘

循理會白普理基金循理小學
數學圖書推介

姓名：侯 此 廷

班別：2D

班號：(8)

- ◇ 請同學到圖書館借閱數學圖書，然後完成這張工作紙，為鼓勵同學參與，完成每份《數學圖書推介》可獲禮物一份。
- ◇ 詳情參閱：Google classroom → 23-24 **班別**數學 → 數學閱讀週

📖 閱讀日期：2024年 1 月

📖 書名：楓之谷數學之神偷 2



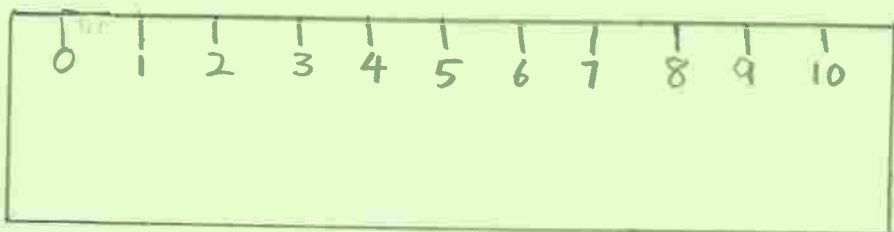
📖 作者/編者：水井中的蝸牛



這本書令我印象最深刻/我學習到的數學知識 (可用圖畫或文字表達)



$$\begin{aligned} 1 \text{ cm} &= \frac{1}{100} \text{ m} \\ 1 \text{ m} &= 100 \text{ cm} \\ 1 \text{ km} &= 1000 \text{ m} \end{aligned}$$



$$1 \text{ cm} = 0.01 \text{ m} = \frac{1}{100} \text{ m}$$

循理會白普理基金循理小學
數學圖書推介

姓名：侯紫芯

班別：2D

班號：(8)

◇ 請同學到圖書館借閱數學圖書，然後完成這張工作紙，為鼓勵同學參與，完成每份《數學圖書推介》可獲禮物一份。

◇ 詳情參閱：Google classroom→23-24 **班別**數學→數學閱讀週

📖 閱讀日期：2024年3月

📖 書名：楓之谷數學神偷



📖 作者/編者：宋道樹



這本書令我印象最深刻/我學習到的數學知識 (可用圖畫或文字表達)



6	3	4	5	2	1
2	1	5	4	6	3
1	5	6	2	3	4
3	4	2	1	5	6
4	2	3	6	1	5
5	6	1	3	4	2