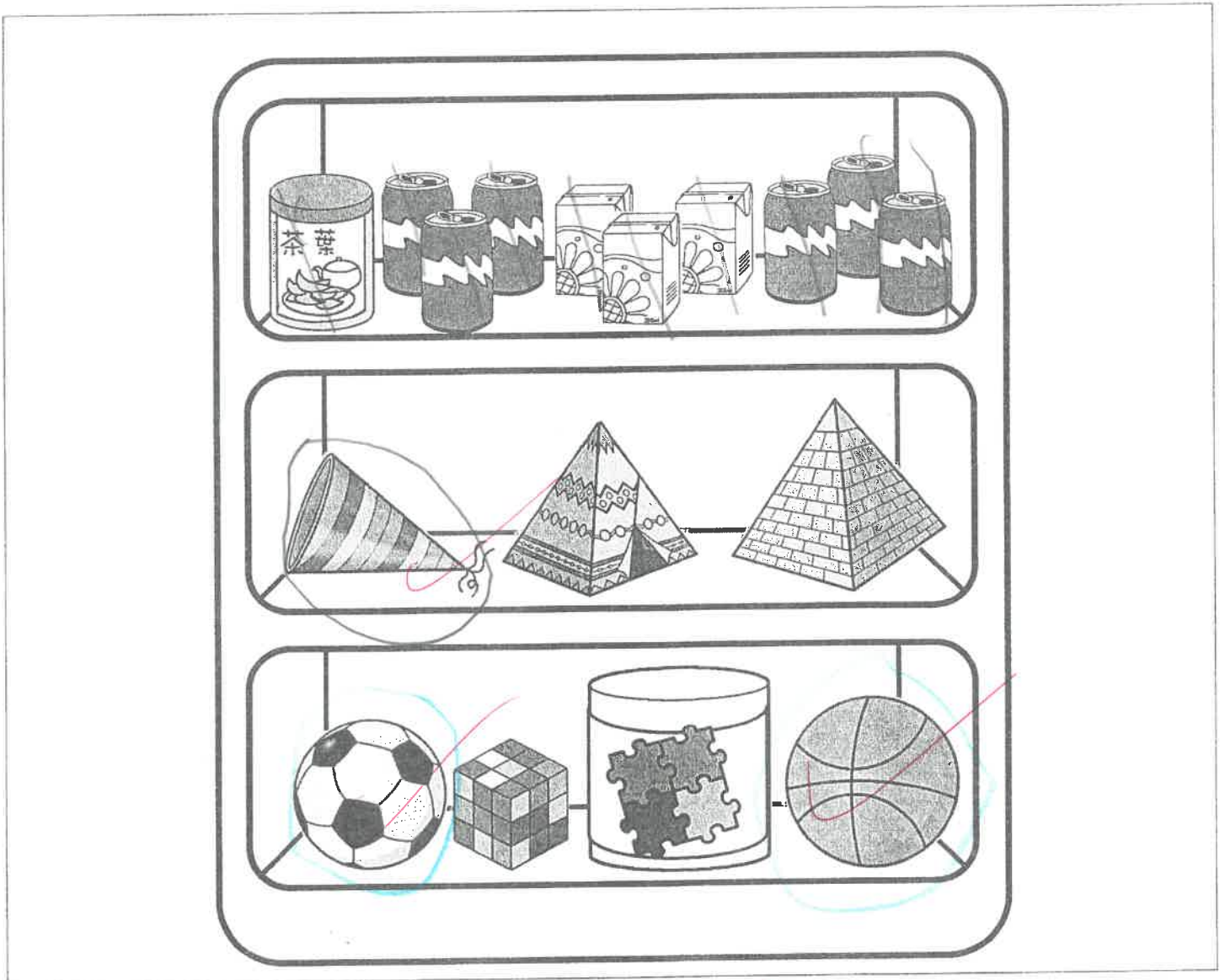


循理會白普理基金循理小學

姓名: <u>周詩雅 (3)</u>	一年級下學期	成績	A 20/1
班別: 1 <u>C</u>	數學科專題:		
日期: <u>18-12-2020</u>	整理雜物架		

媽媽把不同的物件放置在雜物架上。



1(a). 數數看，雜物架的底層有 4 件物品。



1(b). 雜物架的頂層有 9 件飲品。

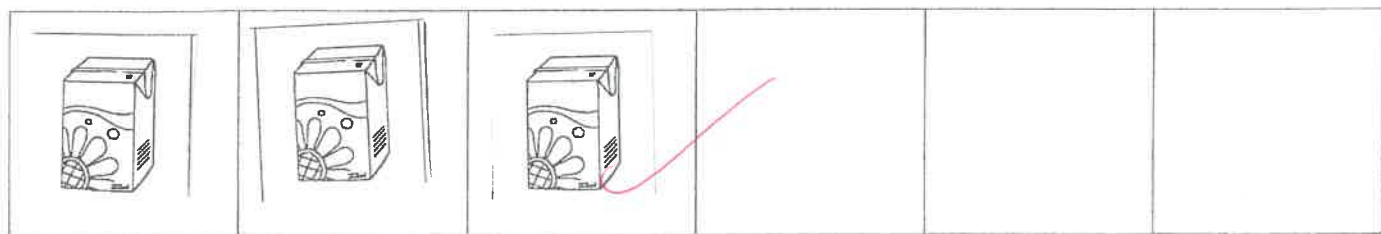
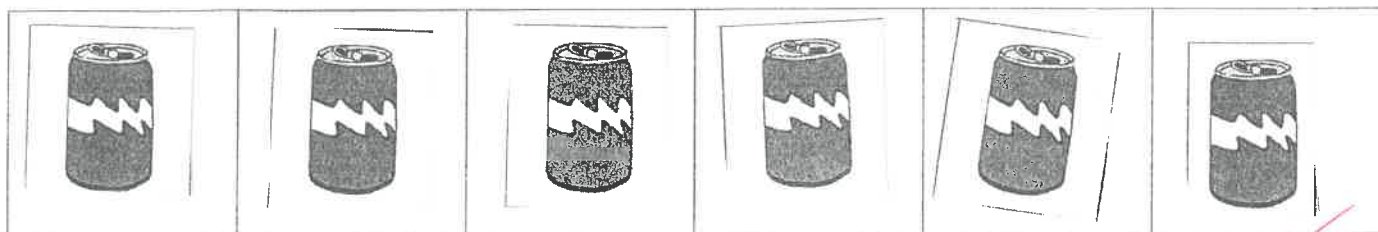
姓名：\_\_\_\_\_ ( )

班別：1 \_\_\_\_\_

2. 在雜物架中，哪一件物品像圓錐？把它用黑色筆圈出來。

3. 在雜物架中，哪兩件物品像球？把它用藍色筆圈出來。

4. 以一對一的方法，利用附頁的圖案  和 ，  
剪貼在下面比比看。



$$\boxed{6} - \boxed{3} = \boxed{3}$$

 比  \* (多 / 少)  $\boxed{3}$ 。

5. 從報章中找出一些像角柱、圓錐、和球的物件圖片，貼在下面。

(每種只需找出一件物品)

角柱



圓錐



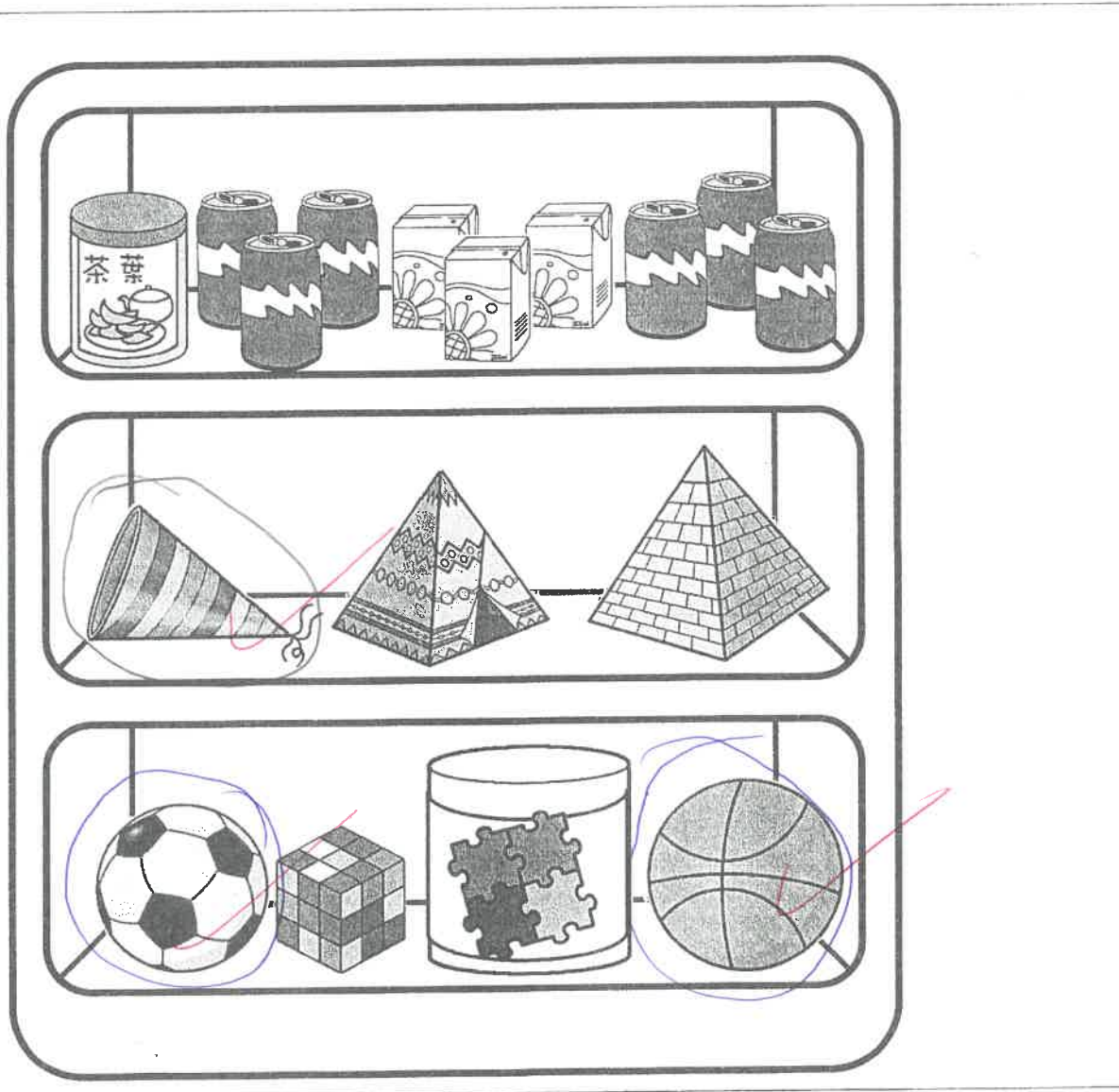
球



循理會白普理基金循理小學

姓名: <u>鄭若山</u> (5)	一年級下學期	成績	A 20/11
班別: 1 <u>C</u>	數學科專題:		
日期: <u>18-12-2020</u>	整理雜物架		

媽媽把不同的物件放置在雜物架上。



1(a). 數數看，雜物架的底層有 4 件物品。

1(b). 雜物架的頂層有 9 件飲品。

姓名：\_\_\_\_\_ ( )

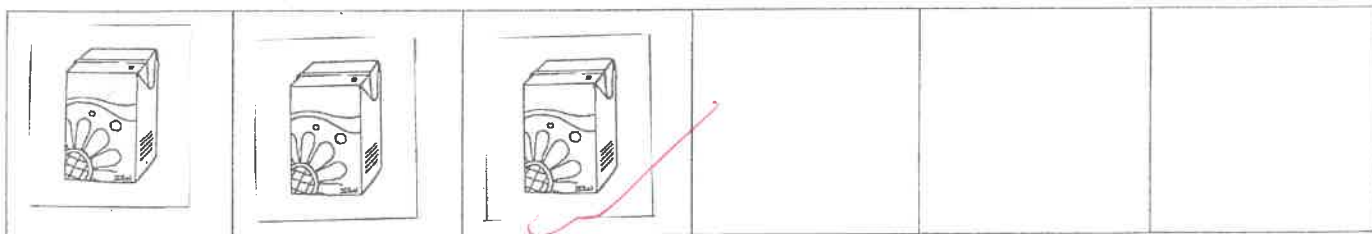

班別：1 \_\_\_\_\_

2. 在雜物架中，哪一件物品像圓錐？把它用黑色筆圈出來。

3. 在雜物架中，哪兩件物品像球？把它用藍色筆圈出來。

4. 以一對一的方法，利用附頁的圖案  和  ，

剪貼在下面比比看。



$$\boxed{6} - \boxed{3} = \boxed{3}$$

 比  \*(多 / 少)  $\boxed{3}$  。

5. 從報章中找出一些像角柱、圓錐、和球的物件圖片，貼在下面。

(每種只需找出一件物品)


角柱



圓錐



球

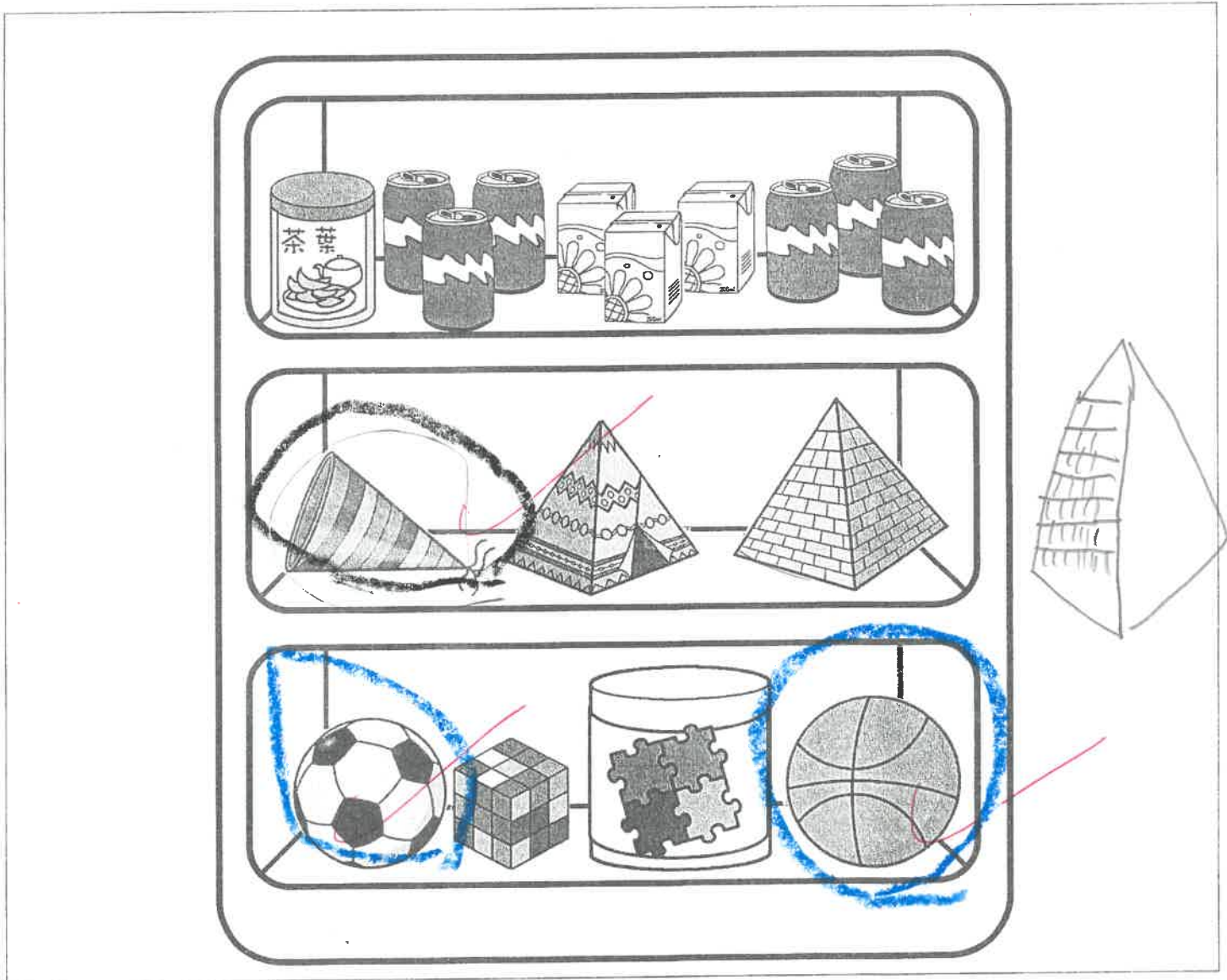




循理會白普理基金循理小學

姓名: <u>李俊廷 (17)</u>	一年級下學期	成績	A 20/1
班別: 1 <u>C</u>	數學科專題:		
日期: <u>27-12-2020</u>	整理雜物架		

媽媽把不同的物件放置在雜物架上。



1(a). 數數看，雜物架的底層有 4 件物品。

1(b). 雜物架的頂層有 9 件飲品。

姓名: 李俊廷 (17)

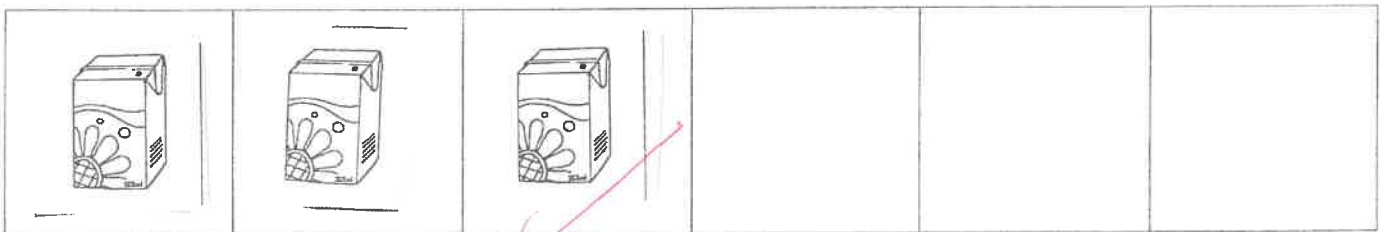

班別: 1 C

2. 在雜物架中，哪一件物品像圓錐？把它用黑色筆圈出來。

3. 在雜物架中，哪兩件物品像球？把它用藍色筆圈出來。

4. 以一對一的方法，利用附頁的圖案  和 ，

剪貼在下面比比看。



$$\boxed{6} - \boxed{3} = \boxed{3}$$

 比  \* ( 多 / 少 )  $\boxed{3}$  。

5. 從報章中找出一些像角柱、圓錐、和球的物件圖片，貼在下面。

(每種只需找出一件物品)

